



Name \_\_\_\_\_

**ADMISSION TEST SESSION 2023-24**

**Class: VI**

English – 15 Marks  
Mathematics – 20 Marks  
Logical Reasoning – 5 Marks  
Hindi – 15 Marks  
EVS – 10 Marks

**General Instructions:**

- Please check that this question paper contains 3 printed pages.
- This question paper comprises 4 Subjects–English, Mathematics, Hindi and General Aptitude.
- All questions are compulsory.
- Marks are indicated against each question.

**ENGLISH**

**Q.1. Read the following passage and answer the questions that follow: 3**

Hardik lives in a big city. He is a tailor. He is a very poor man so he is not able to get enough food for his family. He has a wife and a small son. His son, Anil is very naughty and a lazy boy He never listens or obeys his parents. He plays in the streets with other naughty boys. One day his father takes him to a school. There he sees many children who obey their teachers. They learn many good habits in the school. They also read and write well. Anil feels sorry and starts changing himself. His parents are very happy now.

- (a) Where does Hardik live?
- (b) What is the name of Hardik's son?
- (c) Where does his father take him one day?

**Q.2. Write a letter to your friend thanking him/her for sending gift on birthday. 3**

**Q.3. Write a paragraph in about 50-60 words on the topic: ' Importance of Discipline in life' 3**

**Q.4. Fill in the blanks with the correct prepositions from the bracket: 0.5x4=2**

- (a) The bus stopped \_\_\_\_\_ (on/at) the bus stop.
- (b) She is so fond \_\_\_\_\_ (of/on) books and food.
- (c) The employee went \_\_\_\_\_ (of/into) the Accountant's room.
- (d) Cut the fruits \_\_\_\_\_ (of/with) a knife.

**Q.5. Identify the verbs in the following sentences underline it and indicate the tense of each: 0.5x4=2**

- (a) She loves to eat biriyani.
- (b) Yesterday an accident happened here.
- (c) The Sun shines in the sky.
- (d) They will start a business together.

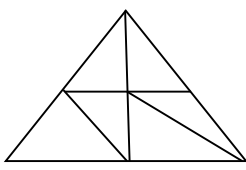

**Q.6. Use appropriate articles to complete the sentences. (a, an, the) 0.5x4=2**

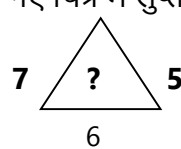
- (a) \_\_\_\_\_ dog is \_\_\_\_\_ useful animal.
- (b) \_\_\_\_\_ world is \_\_\_\_\_ happy place to most people.

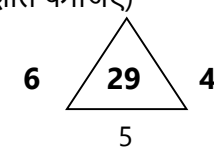
## MATHS

- Q.1.** Evaluate  $8 \times 8 - 6 \times 6$ . (हल कीजिए):- 1  
 a) 26                      b) 28                      c) 30                      d) 32
- Q.2.** Find the average of 3, 8 and 10. (3, 8 और 10 का औसत ज्ञात कीजिए )- 1  
 a) 3                      b) 7                      c) 21                      d) 28
- Q.3.** A board game is bought for Rs 215 and sold for Rs 300. Find the profit or loss made. 1  
 (एक बोर्ड गेम को 215 में खरीदा गया और 300 रुपये में बेच दिया गया। इससे हुए लाभ और हानि को ज्ञात करें )-  
 a) loss=75 (हानि=75)                      b) profit=25 (लाभ=25)  
 c) profit=85 (लाभ=85)                      d) loss=95 (हानि=95)
- Q.4.** Convert the fraction  $\frac{8}{100}$  as percentage. ( भिन्न 8/100 को प्रतिशत में बदलिये)- 1  
 a) 8%                      b) 0.08%                      c) 80%                      d) 0.008%
- Q.5.** A simple closed figure made up of line segments is known as: 1  
 (रेखाखण्डों से बनी एक साधारण बंद आकृति को किस नाम से जाना जाता है)-  
 a) Curve (वक्र)                      b) Circle (वृत्त)  
 c) polygon (बहुभुज)                      d) none of these.(इनमें से कोई नहीं)
- Q.6.** Find the area of a square having side 5 cm. (5 सेमी<sup>०</sup> भुजा वाले वर्ग का क्षेत्रफल ज्ञात कीजिए)- 2
- Q.7.** A man buys decorated diyas at Rs 10 each and sells them at Rs 12 each. Find his profit percent on each diya. 2  
 (एक आदमी प्रत्येक 10 रुपये में सजाए गए दिये खरीदता है और उन्हें 12 रुपये में बेचता है। प्रत्येक दिये पर हुए लाभ प्रतिशत को ज्ञात करें)-
- Q.8.** Simplify  $100 - [(50 \div 5) \times 7]$  (हल कीजिए) - 3
- Q.9.** Name the types of triangles on the basis of their sides. 3  
 (भुजाओं के आधार पर त्रिभुजों के प्रकारों के नाम लिखिए)-

## LOGICAL REASONING

- Q.1** What will come next A:D B:E C:F E:? (A:D B:E C:F E:? के बाद कौन आएगा) 1  
 (a) F                      (b) J                      (c) H                      (d) K
- Q.2** 5 students are standing in a line. Sandeep is 4<sup>th</sup> from left and Rahul is 3<sup>rd</sup> from right. 1  
 How many students are standing between them?  
 (एक पंक्ति में 5 छात्र खड़े हैं संदीप बायें से चौथे स्थान पर और राहुल दायें से तीसरे स्थान पर खड़ा है कुल कितने छात्र उनके बीच खड़े हैं।)-
- Q.3** Count the number of triangles in the given figure. 2  
 (दिए गए चित्र में त्रिभुजों की संख्या गिनकर बताइये)-  
 (a) 10                      (b) 13  
 (c) 12                      (d) None of these
- 
- Q.4.** Find the missing number (दिए गए चित्र में लुप्त संख्या ज्ञात कीजिए) 1
- 




- (a) 25                      (b) 37                      (c) 41                      (d) 47

## HINDI

**प्रश्न-1 निम्नलिखित गद्यांश को ध्यानपूर्वक पढ़कर प्रश्नों के उत्तर विकल्पों में से चुनकर लिखिए। (3)**

गर्मी के इस प्रकोप से अपने आपको बचाने के लिए मनुष्य ने उपाय खोज निकाले हैं। साधारण आय वाले घरों में बिजली के पंखे चल रहे हैं, जो नर-नारियों की पसीने से रक्षा करते हैं। अमीरों के यहाँ वातानुकूलित यंत्र लगे हैं। समर्थजन गर्मी से बचने के लिए पहाड़ी स्थलों पर चले जाते हैं और ज्येष्ठ की तपती दोपहरी पहाड़ की ठंडी हवाओं में बिताते हैं। प्यास बुझाने के लिए शीतल पेय है बर्फ और बर्फ से बने पदार्थ ग्रीष्म के शत्रु और लोगों के लिए वरदान हैं।

- (क) गर्मी के प्रकोप से बचने के लिए किसने उपाय खोज निकाले हैं?  
(अ) मछलियों ने (ब) जानवरों ने (स) मनुष्यों ने (द) इन सभी ने
- (ख) अमीरों के यहाँ क्या लगे हुए हैं?  
(अ) वातानुकूलित यंत्र (ब) भूकंपरोधी यंत्र (स) परीक्षण यंत्र (द) उपर्युक्त सभी
- (ग) समर्थजन गर्मी से बचने के लिए कहाँ चले जाते हैं?  
(अ) हिमालय पर (ब) शिमला (स) पहाड़ों पर (द) कन्याकुमारी

**प्रश्न-2 निम्नलिखित शब्दों के गलत पर्यायवाची शब्द को चुनकर लिखिए। (3)**

- (क) फूल-सुधा, कुसुम, पुष्प  
(ख) आकाश- धरती, अम्बर, नभ  
(ग) माँ -अम्बा, जनक, माता

**प्रश्न-3 निम्नलिखित में से किन्हीं दो शब्दों के विलोम शब्द लिखिए। (2)**

अनुकूल, साक्षर, स्वतंत्रता, मित्र

**प्रश्न-4 निम्नलिखित वाक्यांशों में से किन्हीं तीन वाक्यांश के लिए एक शब्द लिखिए। (3)**

- (क) रचना करने वाला  
(ख) वर्ष में एक बार होने वाला  
(ग) जो नभ में उड़ता हो  
(घ) जिसके आर-पार देखा जा सके  
(ङ) जिसका अंत न हो

**प्रश्न-5 आपकी कक्षा के पंखे खराब है और तीव्र गर्मी है, अतः प्रधानाचार्य को पंखे ठीक करवाने का अनुरोध करते हुए पत्र लिखें। (4)**

## ENVIRONMENTAL AWARENESS

**Q.1.** Who is known as the "Father of Computer"?

(कंप्यूटर के जनक" के रूप में किसे जाना जाता है?)

- a. Charles Babbage (चार्ल्स बैबेज)  
b. Blaise Pascal (ब्लेस पास्कल)  
c. Lady Ada Lovelace (लेडी एडा लवलेस)  
d. Bill Gates (बिल गेट्स)

**Q.2.** Which is the first calculating device? (प्रथम गणना उपकरण कौन सा है?)

- a. ABACUS (अबेकस) b. Pascaline (पास्कलाइन)  
c. Tabulating Machine (टेबुलेटिंग मशीन) d. Calculator (कैलकुलेटर)

- Q.3.** The brightest planet in our solar system – (हमारे सौर मंडल का सबसे चमकीला ग्रह -)  
a. Mercury (बुध) b. Venus (शुक्र)  
c. Mars (मंगल) d. Jupiter (बृहस्पति)
- Q.4.** The Gir National Park is located at – (गिर राष्ट्रीय उद्यान स्थित है -)  
a. Maharashtra (महाराष्ट्र) b. Gujarat (गुजरात)  
c. Kerla (केरल) d. Sikkim (सिक्किम)
- Q.5.** If yesterday was Wednesday, when will be Sunday?  
(यदि कल बुधवार था, तो रविवार कब होगा?)  
a. Tomorrow (कल) b. Two days after tomorrow (कल से दो दिन बाद)  
c. Day after tomorrow (परसों) d. Today (आज)
- Q.6.** \_\_\_\_\_ Means of transport is the fastest means of transport.  
(\_\_\_\_\_ परिवहन का साधन परिवहन का सबसे तेज़ साधन है।)  
a. Water (पानी) b. Air (वायु)  
c. Land (भूमि) d. None of these (इनमें से कोई नहीं)
- Q.7.** Which of the following is different from the others? (निम्नलिखित में से कौन सा अन्य से भिन्न है?)  
a. 10000 ones (10000 इकाई) b. 10 hundreds (10 सैकड़ा)  
c. 100 tens (सौ दहाई) d. 1 thousand (1 हजार)
- Q.8.** \_\_\_\_\_ is Earth's natural satellite. (\_\_\_\_\_ पृथ्वी का प्राकृतिक उपग्रह है।)
- Q.9.** Animals that give birth to their young ones are called \_\_\_\_\_.  
(वे जानवर जो अपने बच्चों को जन्म देते हैं, \_\_\_\_\_ कहलाते हैं।)
- Q.10.** Apples are to fruits as carrots are to \_\_\_\_\_.  
(सेब फलों के समान हैं और गाजर \_\_\_\_\_ हैं।)