



ENTRANCE TEST SESSION(2025-26)

Class: -III/कक्षा-3

Total Marks:- 100 (कुल अंक =100)

Time:- 03 Hours(समय :- 03 घंटे)

Student's Name/ विधार्थी का नाम :- _____

Father's Name / पिताजी का नाम :- _____

Registration No./ पंजीकरण संख्या:- _____

Mobile No./मोबाइल नं:- _____

Invigilator's Sign/ पर्यवेक्षक के हस्ताक्षर:- _____

General Instructions

- This question paper comprises 4 Subjects–Hindi, English, Maths and General Awareness. Please ensure that your paper has all four sections. इस प्रश्नपत्र में चार विषय हैं –हिन्दी, अंग्रेजी, गणित एवं सामान्य जागरूकता । कृपया सुनिश्चित कर लें कि आपके प्रश्नपत्र में चारों विभाग दिए गए हैं।
- All questions are compulsory. सभी प्रश्न अनिवार्य हैं।
- Marks are indicated against each question/Section. प्रत्येक प्रश्न/विभाग के आगे अंक लिखे गए हैं।

WRITTEN EXAMINATION ASSESSMENT/ लिखित परीक्षा मूल्यांकन

SUBJECT/ विषय	TOTAL MARKS/ कुल अंक	SCORE OBTAINED/ प्राप्तांक	CHECKER'S NAME & SIGN जाँचकर्ता का नाम व हस्ताक्षर
HINDI/ हिन्दी	20		
ENGLISH/ अंग्रेजी	20		
MATH/ गणित	20		
General Awareness / सामान्य जागरूकता	20		

ORAL EXAMINATION AND OTHER ACTIVITY ASSESSMENTS/मौखिक परीक्षा एवं अन्य गतिविधि मूल्यांकन

(PLEASE ENCIRCLE THE GIVEN CATEGORY/ दी गई श्रेणी पर कृपया घेरा बना दें)

SUBJECT/विषय	श्रेणी	अंक	पर्यवेक्षक का नाम व हस्ताक्षर
HINDI/ हिन्दी	A—B—C—D—E		
ENGLISH/ अंग्रेजी	A—B—C—D—E		
शास्त्र स्मरण /SHASTRA SAMRAN	A—B—C—D—E		
व्यायाम/प्राणायाम/ अनुशासन EXERCISES/PRANAYAM/ DISCIPLINE	A—B—C—D—E		

TOTAL SCORE/कुल प्राप्तांक= _____/_____

PERCENTAGE/प्रतिशत= _____%

EXAMINATION INCHARGE/परीक्षा अधीक्षक (name & sign)_____

हिन्दी/HINDI

प्रश्न.1-अपठित गद्यांश को पढ़कर दिए गए प्रश्नों के सही उत्तर दीजिए/ सही उत्तर चुनिए ।

पलक और उसकी माँ बगीचे में गईं। बगीचे में तरह-तरह के फूल खिले हुए थे। वहाँ गुलाब, सूरजमुखी, और चमेली के फूल थे। पलक ने गुलाब का एक फूल तोड़ा और माँ से पूछा, "माँ, यह कौन सा फूल है?" माँ ने मुस्कराते हुए कहा, "यह गुलाब का फूल है। यह बहुत खुशबूदार होता है।" पलक ने फूल को सूँघा और कहा, "माँ, यह कितना सुंदर और खुशबूदार है।" माँ ने पलक को बताया कि फूलों को तोड़ना नहीं चाहिए। पलक ने वादा किया कि वह फिर कभी फूल नहीं तोड़ेगी।

क). पलक और उसकी माँ कहाँ गई थीं?

(1)

उत्तर:-

ख). बगीचे में कौन-कौन से फूल खिले थे?

(1)

- 1) चमेली, कमल, और गुलमोहर
- 2) कमल, गुलाब, और सूरजमुखी
- 3) गुलाब, सूरजमुखी, और चमेली
- 4) सूरजमुखी, कमल, और चमेली

ग). पलक ने कौन सा फूल तोड़ा?

(1)

उत्तर:-

घ). माँ ने पलक को क्या सिखाया?

(1)

- 1) किताब पढ़ना ।
- 2) फूलों को तोड़ना अच्छा है ।
- 3) फूलों को तोड़ना नहीं चाहिए ।
- 4) बगीचे में खेलना ।

ड). पलक ने क्या वादा किया ?

(1)

- 1) वह हर दिन बगीचे जाएगी ।
- 2) वह फिर कभी फूल नहीं तोड़ेगी ।
- 3) वह माँ के लिए फूल तोड़ेगी ।
- 4) वह गुलाब का पौधा लगाएगी ।

प्रश्न.2-निम्नलिखित वाक्यों में से सर्वनाम शब्दों को रेखांकित कीजिए।

(2)

(क) वह गा रही है।

(ख) मैं बाजार जा रही हूँ।

Q.1-Fill in the blanks with suitable doing words. (1)

A. Children are _____ to school.

B. Mother is _____ food.

Q.2-Rearrange the words to make sentences. (1)

A. did / swim / know / it / how / not / to-----

Q.3 Write past form of - write. ----- (1)

Q.4 Write the opposite word. (1)

A. Clean _____

B. Happy _____

Q.5 Rewrite the sentence using Capital letters. (1)

A. radha helped jatin pack his bag. -----

Q.6 Fill in the blanks with suitable conjunctions. (1)

A. Rohit _____ Suman want to become doctors.

B. Nisha is slim _____ her brother is fat.

Q.7 Read the given sentences. Write the subject and predicate. (1)

A. Priya is a pretty girl

B. Sri Lanka is an island.

Q.8 What is a noun? Write two examples. (1)

Q.9 Fill in the blanks using correct prepositions. (1)

A. The parrot is _____(on/ in) the cage.

B. The girl is sitting_____ (in / under) the tree

Q.10.Underline the prepositions in the given sentences. (1)

A. Do not laugh at others

B. Shivani sits between Mohit and Tina

Q.11.Fill in the blanks with a , an , the. (2)

A. _____ union

B. _____ umbrella

C. _____Taj Mahal

D. _____orange

Q.12.Pick out the ADVERBS in the following sentences (1)

A. He played well.

B. Meenu is playing outside.

Q.14.Pick out the Verbs (Action words)from the following-

(1)

- A. I was sleeping.
- B. Meenu is playing .

Q.15.Make adverbs by adding -ly to the words given below

(1)

- A. Warm -----
- Beautiful -----

Q.18.Complete the sentences with 'has' or 'have'

(1)

- A. We _____a big house.
- B. She _____a sweet voice.

Q.18. Name at least 8 birds/ animals from the following picture-

(4)



गणित / MATHEMATICS

Q.1 Fill in the blanks. / रिक्त स्थानों की पूर्ति करें।

(2)

a) $34 + 42 = \dots\dots\dots$

b) $53 - 29 = \dots\dots\dots$

c) $29 + 43 = \dots\dots\dots$

d) $69 - 34 = \dots\dots\dots$

Q.2 The largest 4 digit number. / चार अंकों की सबसे बड़ी संख्या-

(1)

Q.3 The smallest 5 digit number. / पाँच अंकों की सबसे छोटी संख्या-

(1)

Q.4 Multiply the followings. / निम्न को गुना करे।

(2)

a) $23 \times 6 = \dots\dots\dots$

b) $78 \times 4 = \dots\dots\dots$

c) $34 \times 9 = \dots\dots\dots$

d) $98 \times 8 = \dots\dots\dots$

Q.5 Circle the odd numbers. / विषम संख्याओं पर गोला बनाइए- 7, 12, 22, 33, 17

(1)

Q.6 Write the numerals given below. / निम्न को अंकों में लिखें।

(1)

a) Four hundred eighty seven –

b) Two hundred sixty three-.....

Q.7 Write the place value of underlined digit. / रेखांकित अंकों का स्थानीय मान बताइए।

(1)

4857-.....

2632-.....

Q.8 Fill in the blanks. / रिक्त स्थानों की पूर्ति करिए।

(1)

a) 2.8 kilometre=..... metre

b) 3.5 rupees= paise.

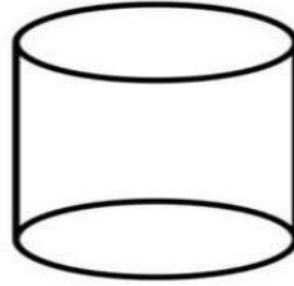

Q.9 Write the time shown on the clock. / घड़ी में दर्शाए समय को लिखिए।

(1)



Q.10 Write the name of these shapes. / निम्न आकृतियों के नाम लिखिए।

(1)



.....

Q.11 If you have 15 sweets and you eat 7 of them, how many sweets are left? Then, if you get 5 more sweets, how many do you have now? / यदि आपके पास 15 मिठाइयाँ हैं और 7 आपने खा ली हैं, तो आपके पास कितनी मिठाइयाँ बची? फिर, यदि आपको 5 और मिठाइयाँ मिलती हैं, तो अब आपके पास कुल कितनी हैं?)

(1)

.....

Q.12 Arrange these numbers in descending order / निम्न को अवरोही क्रम में व्यवस्थित करें।

(1)

44, 33, 55, 22, 11.

Q.13 Arrange the digits 2, 5, and 7 to form the smallest and largest two-digit numbers / (अंक 2, 5 और 7 को सबसे छोटी और सबसे बड़ी दो अंकों की संख्या बनाने के लिए व्यवस्थित करें।)

(1)

.....

Q.14 If you share 12 mangoes equally among 4 friends, how many mangoes each friend get? / यदि आप 12 आमों को 4 मित्रों के बीच समान रूप से बाँटते हैं, तो प्रत्येक मित्र को कितने आम मिलेंगे?

(1)

.....

Q.15 What is the smallest five-digit number? / पांच अंकों की सबसे छोटी संख्या क्या है?

(1)

.....

Q.16 What shape has no corners? / किस आकार में किनारे नहीं होते हैं?

(1)

.....

Q.17 What time is it when the big hand is on 12 and the small hand is on 3? / वह कौन सा समय है जब बड़ी सुई 12 पर है और छोटी सुई 3 पर है?

(1)

.....

Q.18 How many minutes are in an hour? / एक घंटे में कितने मिनट होते हैं?

(1)

सामान्य जागरूकता /GENERAL AWARENESS

Q.1- How many colors are there in Indian flag? / भारत के ध्वज में कितने रंग हैं ? (1)

.....

Q.2- Write about five good habits. / पाँच अच्छी आदतों के बारे में लिखिए ? (2)

.....

.....

.....

.....

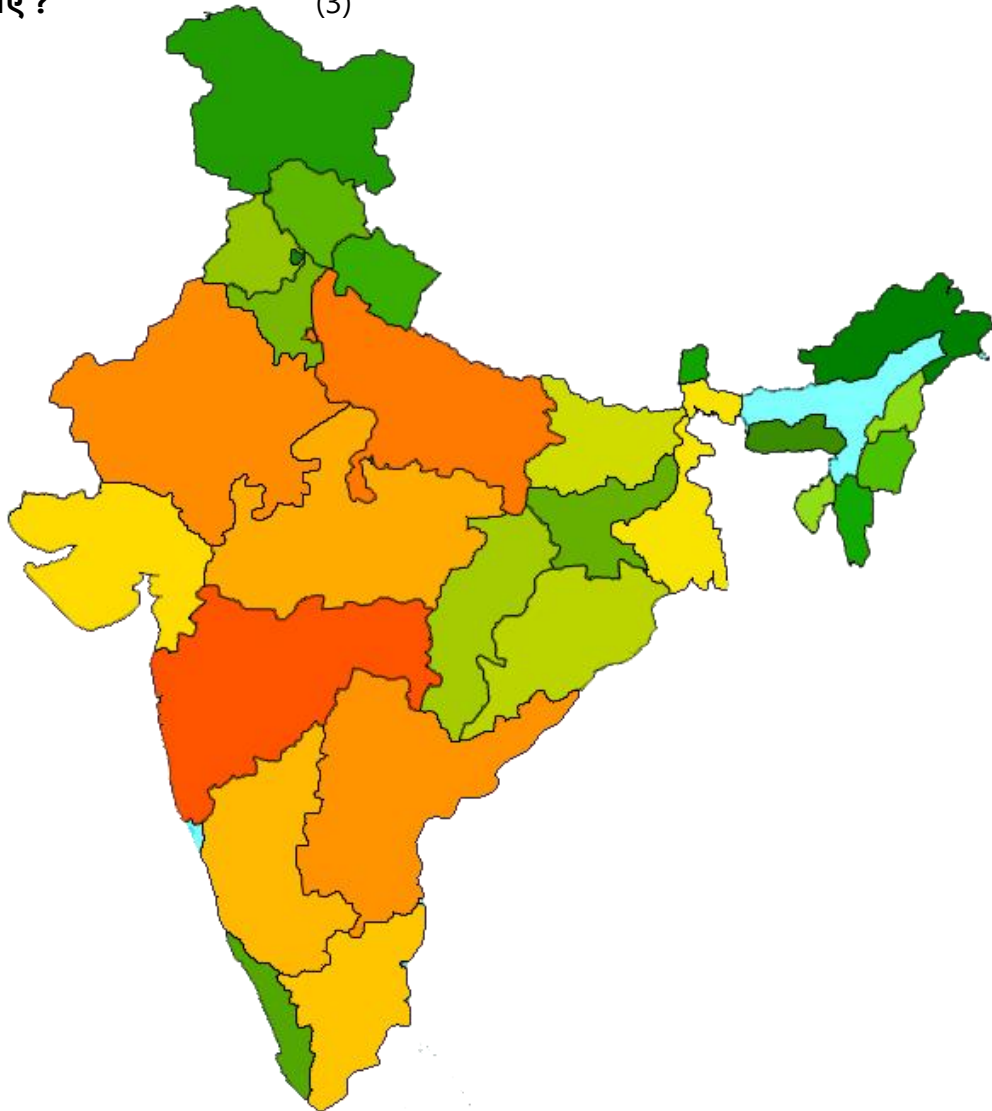
.....

Q.3-Write names of 4 community workers. / 4 सामुदायिक कार्यकर्ताओं के नाम लिखिए ? (2)

.....

.....

Q.4-Write names of any 6 states of India in the given map. / दिए गए मानचित्र में भारत के किन्हीं 6 राज्यों के नाम लिखिए ? (3)



Q.5-Name 6 animals who live in a group | / समूह में रहने वाले 6 जानवरों के नाम लिखिए। (2)

.....
.....

Q.6-Name 5 things you see in a Temple? / एक मंदिर में दिखाई देने वाली किन्हीं 5 वस्तुओं के नाम लिखिए। (2)

.....
.....

Q.6-Name any 6 pet animals or birds? / किन्हीं 6 पालतू पशुओं या पक्षियों के नाम लिखिए। (2)

.....
.....


Q.7- Name four animals living in water? / पानी में रहने वाले 4 जानवरों के नाम बताइए। (2)

.....
.....

Q.7- What to do on these traffic signals. / निम्नांकित यातायात संदेशों पर क्या करना चाहिए। (4)

Traffic light

Red light



.....

Yellow light

.....

Green light

.....

Zebra crossing



.....