



Name \_\_\_\_\_

## ADMISSION TEST SESSION 2023-24

**Class: V**

English – 15 Marks  
Mathematics – 15 Marks  
Logical Reasoning -5 Marks  
Hindi – 15 Marks  
EVS – 10 Marks

### General Instructions:

- Please check that this question paper contains 5 printed pages.
- This question paper comprises 4 Subjects–English, Mathematics, Hindi and General Awareness.
- All questions are compulsory.
- Marks are indicated against each question.

## ENGLISH

**Q.1. Read the following passage and answer the questions that follow:**

**3**

Bears are found in Europe, Asia, Africa and America. They are massively built, with short tails and thick legs. Bears are not actually carnivores. They eat almost anything, the main exception being the polar bear, which in its natural state lives on fish and seals. However, in captivity, they seem to enjoy meat, vegetables, fruits, milk, rice and oatmeal. Bears are not as dangerous as most people think they are; they will do, He tries his best to avoid humans. They have a special sense of sight which is the sight of seeing things.

(a) **Where are bears found?**

- i. America      ii. Australia      iii. Arctica      iv. None of the above

(b) **What does a bear eat in captivity?**

- i. Meat      ii. Chapati      iii. Seal      iv. Trees

(c) **What does a bear avoid like most animals?**

- i. Hunters      ii. Human beings      iii. Fish      iv. None of the above

**Q.2. Write a letter to your friend describing him/her that how you are going to spend your summer vacations.**

**3**

**Q.3. Pick out all the Adjectives in the following sentences:**

**3**

(a) The old man carries a heavy bag.

(b) A strong wind blew across the marshy land.

(c) The lazy girl failed in the exam.

**Q.4. Fill in the blanks with the correct prepositions from the bracket:**

**0.5x4=2**

- (a) I agree..... you (to/with).
- (b) My brother lives..... Paris (in/at).
- (c) I am thankful..... you (to/with).
- (d) She poured the milk..... the jug (in/into).

**Q.5. Identify verbs in the following sentences and indicate the tense of each:**

**0.5x4=2**

- (a) The cow gives us milk.
- (b) The tiger killed the rabbit.
- (c) The army ran after the terrorist.
- (d) She will come here on Monday.

**Q.6. Write down the antonyms of following words:**

**2**

- (a) Beautiful
- (b) soft

## MATHEMATICS

**Q.1. Choose the correct option attempt any five: (कोई पांच प्रश्न करें )**

**5x1=5**

(a) Sunday comes before \_\_\_\_\_.

(रविवार \_\_\_\_\_ से पहले आता है।)

(i) Monday (सोमवार)

(ii) Saturday (शनिवार)

(iii) Friday ( शुक्रवार)

(iv) Tuesday (मंगलवार)

(b) 98456 m can be written \_\_\_ km \_\_\_ m.

(98456 मीटर को \_\_\_ km \_\_\_ m लिखा जा सकता है।)

(i) 9 km 8456m ( 9 किमी 8456 मीटर)

(ii) 98km 456m (98 किमी 456 मीटर)

(iii) 984km 56m (984 किमी 56 मीटर)

(iv) 98456km (98456 किमी)

(c) Number of weeks in a year are \_\_\_\_\_

(एक वर्ष में सप्ताहों की संख्या \_\_\_\_\_ होती है।)

(i) 56

(ii) 54

(iii) 51

(iv) 52

(d) Area of Rectangle = \_\_\_\_\_

(आयत का क्षेत्रफल = \_\_\_\_\_)

(i)  $2(l + b)$

(ii)  $4 \times \text{side}$  (4 x भुजा)

(iii)  $3 \times \text{side}$  (3 x भुजा)

(iv) length x breadth (लंबाई x चौड़ाई)

(e) Number of days in leap year is \_\_\_\_\_

(लीप वर्ष में दिनों की संख्या \_\_\_\_\_ है।)

(i) 365

(ii) 366

(iii) 30

(iv) 29

(f) 2 hours 30 minutes = \_\_\_\_\_minutes.

(2 घंटे 30 मिनट = \_\_\_\_\_ मिनट।)

(a) 120

(b) 150

(c) 230

(d) 180

**Q.2. Solve the following: (निम्नलिखित को हल करें: )**

**5x2=10**

(a) Convert 89 kg 750 g into g.

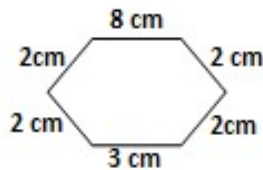
(89 किलो 750 ग्राम को ग्राम में बदलें।)

(b) Convert 6789m into km and m.

(6789 मीटर को किमी और मीटर में बदलें।)

(c) Find the perimeter of the given figure.

(दी गई आकृति का परिमाण ज्ञात कीजिए।)



(d) Write the correct unit of measurement (kg, g, litre or ml) to be used for the following objects:

(निम्नलिखित वस्तुओं के लिए उपयोग की जाने वाली माप की सही इकाई (किलो, ग्राम, लीटर या मिली०) लिखें)

i. A cup of milk \_\_\_\_\_

एक कप दूध \_\_\_\_\_

ii. A baby elephant \_\_\_\_\_

एक बच्चा हाथी \_\_\_\_\_

iii. Solve : हल करें-  $\frac{43}{15} + \frac{16}{15}$

(e) Ravi bought 45m 56cm rope. He cut 29m 69cm rope. How much rope is left?

(रवि ने 45 मीटर 56 सेमी रस्सी खरीदी। उसने 29 मीटर 69 सेमी रस्सी काटी। कितनी रस्सी बची है?)

## LOGICAL REASONING

**Q.1.** What is the next number in the pattern below?

**1**

नीचे दिए गए पैटर्न में अगला नंबर क्या है?

125, 150, 175, 200, ...?....

(i) 205

(ii) 215

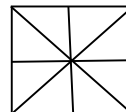
(iii) 225

(iv) 250

**Q.2.** The number of squares in the figure is \_\_\_\_\_.

**2**

(चित्र में वर्गों की संख्या \_\_\_\_\_ है।)



(i) 5

(ii) 6

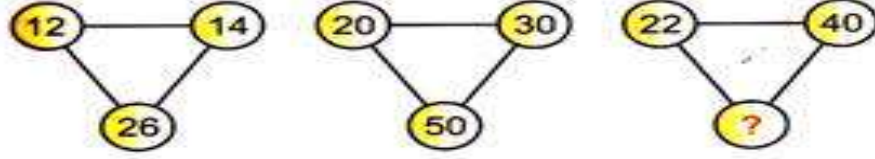
(iii) 4

(iv) None of these (इनमें से कोई नहीं)

Q.3. Insert the missing no:

1

(लुप्त संख्या ज्ञात करें:)



(i) 58

(ii) 60

(iii) 62

(iv) 64

Q.4. Mohini went to a movie nine days ago. She goes to movies only on Thursdays.

1

What day of the week is today?

(नौ दिन पहले मोहिनी एक फिल्म देखने गई थी। वह केवल गुरुवार को ही फिल्में देखने जाती हैं। आज सप्ताह का कौन सा दिन है?)

(i) Thursday (गुरुवार)

(ii) Saturday (शनिवार)

(iii) Sunday (रविवार)

(iv) Tuesday (मंगलवार)

## HINDI

प्रश्न-1 निम्नलिखित गद्यांश को पढ़कर पूछे गए प्रश्नों के उत्तर दीजिए।

(३)

जल और जीवन का आपस में गहरा संबंध है। बड़े-बड़े नगर नदियों के किनारे ही बसे हुए हैं। आजकल मनुष्य नदियों और झीलों में तैरकर अपना मनोरंजन करता है। प्राचीन काल में मनुष्य तैरकर ही नदियों को पार करता था। तैराकी अपने आप में कला के साथ-साथ अच्छा व्यायाम भी है। आजकल तैराकी के कई प्रकार प्रचलित हैं?

(अ) जल और जीवन का आपस में कैसा संबंध है ?

(क) गहरा

(ख) कच्चा

(ग) पक्का

(घ) सच्चा

(ब) बड़े-बड़े नगर कहाँ बसे हुए हैं ?

(क) समुद्र के किनारे

(ख) नदियों के किनारे

(ग) मैदानों के किनारे

(घ) पहाड़ के नीचे है

(स) 'प्राचीन' का विलोम शब्द है-

(क) नवीन

(ख) अचीन

(ग) पुराना

(घ) पूरा

प्रश्न-2 निम्नलिखित वाक्यों में से विशेषण शब्द छाँटिए।

(२)

(क) वह एक ईमानदार लड़का है।

(ख) उसे दो किलो आलू चाहिए।

प्रश्न-3 निम्नलिखित वाक्यों में उचित विराम चिह्न लगाकर वाक्य को पुनः लिखिए।

(२)

(क) हँसते-हँसते हम सब लोट-पोट हो गए

(ख) अरे तुम कब आए

प्रश्न-4 निम्नलिखित में से किन्हीं दो शब्दों के दो-दो पर्यायवाची शब्द लिखिए। (२)

मित्र, पानी, आँख

प्रश्न-5 निम्नलिखित वाक्यों को शुद्ध करके दोबारा लिखिए। (२)

(क) हम तीन भाई हूँ।

(ख) गाय घास खा रहा है।

प्रश्न-6 दो दिन के अवकाश के लिए प्रधानाचार्य जी को प्रार्थना पत्र लिखिए। (४)

## ENVIRONMENTAL AWARENESS

Q.1. Choose the correct option:- (सही विकल्प चुनें:-)

1x10=10

1. Which of the following is called plant - eating animal?

(निम्नलिखित में से किसे पौधा खाने वाला जानवर कहा जाता है?)

a) Carnivores (मांसाहारी) c) Herbivores (शाकाहारी)

b) c) Omnivores (सर्वाहारी) d) Parasites (परजीवी)

2. The \_\_\_\_ can rotate it's neck backward to a large extent.

(\_\_\_\_ अपनी गर्दन को काफी हद तक पीछे की ओर घुमा सकता है।)

a) Falcon (बाज़) c) Stork (सारस)

b) c) Owl (उल्लू) d) Lizard (छिपकली)

3. Which of the following eat both plants and animals?

निम्नलिखित में से कौन पौधे और जानवर दोनों खाता है?

a) Herbivores (शाकाहारी) c) Omnivores (सर्वाहारी)

b) Carnivores (मांसाहारी) d) Scavengers

4. Which of the following imitate the human voice?

(निम्नलिखित में से कौन मानव आवाज की नकल करता है?)

a) Parrot (तोता) b) Pigeon (कबूतर) c) Owl (उल्लू) d) Crow (कौआ)

5. Which of the following reproduce by laying eggs.

(निम्नलिखित में से कौन अंडे देकर प्रजनन करता है।)

a) Elephant (हाथी) b) Cow (गाय) c) Bear (भालू) d) Fish (मछली)

6. How many bones are there in human's body?

(मनुष्य के शरीर में कितनी हड्डियाँ होती हैं?)

a) 206 b) 207 c) 208 d) 106

7. Which part of the computer is its brain?

कंप्यूटर का मस्तिष्क कौन सा भाग है?

a) CPU b) Mouse c) Printer d) UPS

8. The full form of ROM is \_\_\_\_\_.

(ROM का पूर्ण रूप \_\_\_\_\_ है।)

- a) Read Only Memory                      c) Road Only Memory  
b) Roat Only Memory                      d) None of these

9. Which of the following can be cooked by the method of frying?

(निम्नलिखित में से किसे तलने की विधि से पकाया जा सकता है?)

- a) Pakoda ( पकौड़ा )                      c) Dhokla (ढोकला)  
b) Chapati ( चपाती )                      d) Papad ( पापड़ )

10. National game of India is \_\_\_\_\_

(भारत का राष्ट्रीय खेल \_\_\_\_\_ है।)

- a) Hockey ( हॉकी )                      c) Cricket ( क्रिकेट )  
b) Tennis ( टेनिस )                      d) Basket Ball ( बास्केट बॉल )