

ADMISSION TEST SESSION 2023-24

Class: III

English – 15 Marks
Mathematics – 15 Marks
Hindi – 15 Marks
General Awareness – 10 Marks
Logical Reasoning – 5 Marks

General Instructions:

- Please check that this question paper contains 5 printed pages.
- This question paper comprises 4 Subjects–English, Mathematics, Hindi and General Awareness.
- All questions are compulsory.
- Marks are indicated against each question.

Name _____ Section _____ Roll no. _____

ENGLISH

Q.1. Read the following passage and answer the questions given below: 3

A frog is an animal that lives both on land and in water, so it's also called an amphibian. When there is more cooling in the atmosphere, it goes inside the ground for about 2 feet. There is a difference between the front and back legs of the frog. Actually, it has four legs and its hind legs are bigger than the front legs. The temperature of the frog varies according to the temperature of the environment.

(i) Where do frogs live?

- (a) In the forest (b) In the sky (c) On land and in water (d) In the trees

(ii) How many species of frogs are there?

- (a) More than thousand (b) More than hundred
(c) More than lakh (d) More than crore

(iii) Which legs of the frog are bigger?

- (a) Front (b) Hind (c) Upper (d) Lower

Q.2. Look at the picture and answer the following questions. 4



(a) This picture is of a _____

- (i) Market (ii) Park (iii) Hospital (iv) Mall

(b) _____ is sitting in front of the vegetable shop.

- (i) Bob (ii) Jack (iii) Peter (iv) Dog

(c) Where is the man who is wearing hat hiding?

(i) Near news agent shop

(ii) Near vegetable shop

(iii) Near the ladder

(iv) None of these

(d) What is Peter doing?

(i) Walking

(ii) Washing

(iii) Playing

(iv) Cycling

Q.3. Fill in the blanks with the opposite gender of the underlined words.

2

a) The _____ is talking to the woman.

b) The _____ and the princess are very kind.

Q.4. Pick out the describing words.

2

a) There are seven days in a week. _____

b) The hungry cat wants milk. _____

Q.5. Fill in the blanks with *he, she, it or they*

2

a) _____ is my mother.

b) Look at the peacocks. _____ have such colourful tails

Q.6. Pick out and write the doing words.

2

a) We swim in the pool. _____

b) Meera draws a house. _____

MATHEMATICS

Q.1. Add the following: - (निम्न को जोड़िए)-

2

$$\begin{array}{r} \text{a) T O} \\ 6 \ 5 \\ + \ 7 \ 9 \\ \hline \end{array}$$

$$\begin{array}{r} \text{b) T O} \\ 4 \ 9 \\ + \ 8 \ 9 \\ \hline \end{array}$$

Q.2. Subtract the following: - (निम्न को घटाइए)-

2

$$\begin{array}{r} \text{a) T O} \\ 8 \ 2 \\ - \ 6 \ 4 \\ \hline \end{array}$$

$$\begin{array}{r} \text{b) T O} \\ 7 \ 6 \\ - \ 0 \ 9 \\ \hline \end{array}$$

Q.3. Multiply the following: - (निम्न को गुणा कीजिए)-

2

$$\begin{array}{r} \text{a) T O} \\ 8 \ 7 \\ \times \ 5 \\ \hline \end{array}$$

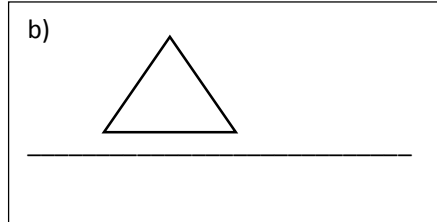

$$\begin{array}{r} \text{b) T O} \\ 3 \ 2 \\ \times \ 9 \\ \hline \end{array}$$

Q.4. Write roman numbers of the following digits:- (निम्नलिखित अंकों की रोमन संख्याएँ लिखिए)- **2**



a) 9 - _____

b) 7 - _____

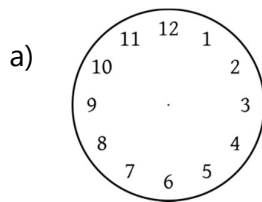
Q.5. Write the 2D shapes name given below:- (नीचे दिए गए 2D आकृतियों के नाम लिखिए)- **2**



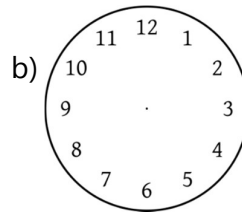
Q.6. Draw any two 3D shapes of your choice and write their name :- **3**
(अपनी पसंद की कोई दो 3D आकृतियाँ बनाएँ और उनका नाम लिखिए)-



Q.7. Draw the time on each clock given below: - **2**
(नीचे दी गई समय को घड़ी में दर्शाइए)-



2:00



7:00

Logical Reasing – 5 marks





Q.1. Complete the following pattern: - (निम्नलिखित पैटर्न को पूरा करें)- **5**

a)					
b)	10	30	50	70	
c)	AB	CD	EF	GH	
d)	A1Z	B2Y	C3X	D4W	
E)					

Logical Reasoning – 5 marks

Q.1. Complete the following pattern: - (निम्नलिखित पैटर्न को पूरा करें)-

5

a)					
b)	10	30	50	70	
c)	AB	CD	EF	GH	
d)	A1Z	B2Y	C3X	D4W	
E)	

HINDI

प्रश्न 1 - दिए गए गद्यांश को पढ़कर पूछे गए प्रश्नों के उत्तर दीजिए।

3

सोमवार को मोहन का जन्मदिन है। वह अपने इस जन्मदिन पर आठ साल का हो जाएगा। वह तीसरी कक्षा में पढ़ता है। मोहन हर साल अपना जन्मदिन धूम धाम से मनाता है। वह अपने घर को फूलों और गुब्बारों को सजाता है। शाम को केक काटता है। सब लोग उसे बधाई के साथ उपहार देते हैं।

क. मोहन अपना जन्मदिन किस प्रकार मनाता है ?

.....

ख. सोमवार को किसका जन्मदिन है ?

.....

ग. मोहन अपने जन्मदिन पर कितने साल का हो जाएगा ?

.....

प्रश्न 2 - दिए गए शब्दों में से संज्ञा और सर्वनाम शब्द छोटकर अलग-अलग कीजिए।

4

वह , राम , मंदिर , उसका , पेड , कौन , पंखा , तुम्हारा

संज्ञा -

सर्वनाम -

प्रश्न 3 - दिए गए शब्दों के लिंग बदलिए।

1

माता

मोर

प्रश्न 4 - निम्नलिखित शब्दों के वचन बदलिए।

1

बकरियाँ

नदी

प्रश्न 5 - दिए गए शब्दों के विलोम शब्द चुनकर लिखिए।

1

सुख - आनंद, दुख, प्रसन्न

मित्र - शत्रु, दोस्त, साची

प्रश्न 6 - चित्र देखकर 5 वाक्य लिखिए।

5



.....

.....

.....

.....

.....

GENERAL AWARENESS

Q.1. Which is the capital of Uttarakhand?(उत्तराखंड की राजधानी क्या है?)-

1

a) Lucknow (लखनऊ)

b) Dehradun (देहरादून)

c) Nainital (नैनीताल)

d) Patna (पटना)

Q.2. When do we celebrate Christmas Day?(क्रिश्मस डे कब मनाया जाता है)

1

- a) 21 December (21 दिसम्बर) b) 24 Dec (24 दिसम्बर)
c) 25 December (25 दिसम्बर) d) 26 Dec (26 दिसम्बर)

Q.3. What do you like to do in your free time? (तुम्हें खाली समय में क्या करना पसंद है)? **1**

- a) Dancing (नाचना) b) Reading (पढ़ना)
c) Singing (गाना) d) Watching cartoon(कार्टून देखना)

Q.4. The _____ is the meal which we have in the morning. (भोजन जो हम सुबह खाते हैं) **1**

- a) Breakfast (नाश्ता) b) Dinner (रात का खाना)
c) Snacks (सांय का नाश्ता) d) Lunch (दोपहर का भोजन)

Q.5. We use our _____ to see beautiful flowers in the garden. **1**

(हम बगीचे में सुंदर फूल देखने के लिए उपयोग करते हैं अपने का।)

- a) Ears (कान का) b) Nose (नाक का)
c) Eyes (आँख का) d) Hands (हाथ का)

Q.6. _____ is known as the festival of colours. (रंगों के त्योहार के रूप में जाना जाता है।) **1**

- a) Diwali (दीवाली) b) Eid (ईद)
c) Lohri (लोहड़ी) d) Holi (होली)

Q.7. We get _____ from the plants. (हमें पौधों से मिलता है।) **1**

- a) Egg (अण्डा) b) Wool (ऊन)
c) Vegetables (सब्जियाँ) d) Leather (चमड़ा)

Q.8. Where do we go to deposit our money? (हम अपना पैसा जमा करने कहां जाते हैं?) **1**

- a) Fire Station (दमकल केंद्र) b) Bank (बैंक)
c) Market (बाजार) d) Park (पार्क)

Q.9. The _____ looks after your house when you sleep at night. **1**

(जब आप रात को सोते हैं तो आपके घर की देखभाल करता है।)

- a) Cat (बिल्ली) b) Donkey (गधा)
c) Dog (कुत्ता) d) Cow (गाय)

Q.10. Which type of clothes we wear in the summer season from the following? **1**

(निम्नलिखित में से हम गर्मी के मौसम में किस प्रकार के कपड़े पहनते हैं?)

- a) Skirt, Pant, Jacket (स्कर्ट, पंत, जैकेट) b) T-shirt, Frock, Shorts (टी-शर्ट, फ्रॉक, शॉर्ट्स)
c) Coat, Sweater, Pullover (कोट, स्वेटर, स्वेटर) d) Gloves, Raincoat, Cap (दस्ताने, रेनकोट, कैप)